


# ① グラフと ひょう

2年	組	番
名前		

① つぎの <sup>え</sup>絵を見て <sup>こた</sup>答えましょう。



① どうぶつの <sup>かず</sup>数を右のグラフに  
○をつかってあらわしましょう。 (各10点)

② どうぶつの数を下のひょうに  
かきましょう。 (各10点)

どうぶつ	ぞう	とら	きりん	さい
数				

③ いちばん <sup>おお</sup>多い <sup>なん</sup>どうぶつは何ですか。  
(10点)

④ 7とう <sup>なん</sup>いる <sup>なん</sup>どうぶつは何ですか。  
(10点)

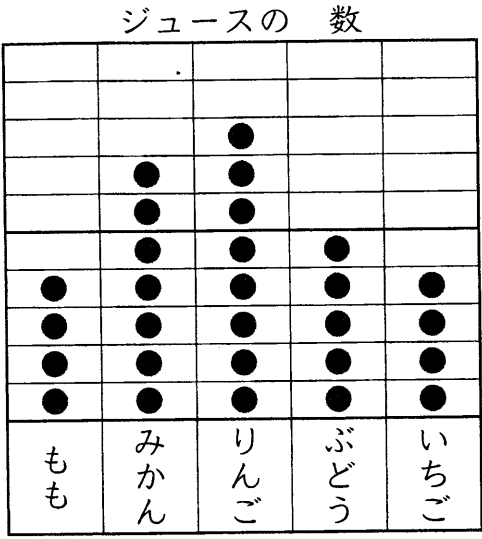
どうぶつの 数

ぞう	とら	きりん	さい

# ① グラフと ひょう

2年	組	番
名前		

① ただしさんは、はこの 中の ジュースの <sup>かず</sup>数を フルーツの しゅるいで <sup>わ</sup>分けて、グラフと ひょうに あらわしました。  
 これらを見て <sup>かんが</sup>考えましょう。




ジュースの 数



しゅるい	もも	みかん	りんご	ぶどう	いちご
数	4	7	8	5	4

① みかんと ぶどうは どちらが <sup>おほ</sup>いくつ 多いですか。  
 が  つ 多い。

② グラフや ひょうに あらわすと わかりやすい ことを、 から えらんで <sup>き</sup>記ごうで <sup>こた</sup>答えましょう。  
 グラフに あらわすと  ひょうに あらわすと   
 わかりやすい こと  わかりやすい こと

- ア おいしいか どうか わかりやすい。  
 イ ジュースの 数が わかりやすい。  
 ウ ジュースの 数の 多い <sup>すく</sup>少ないが わかりやすい。

 「グラフと ひょう」の 学しゅうを ふりかえりましょう。

① あてはまる ものに ○を つけましょう。  
 ①すすんで 学しゅうできましたか。  
      
 ②さいごまで しっかりと 学しゅうできましたか。  


② 学しゅうして <sup>おも</sup>思った ことや もっと 学しゅうしたい ことを 書きましょう。