

教科書P8~15, P219(天気と気温)を読み、5/26
マイノートを作り、最後に予想(※自分の考え)を書こう。

___ について深く知り、この単元の ___ を書いて、___ をしよう。

☆気温とは、□□(□□)の温度のことで、___ や ___ によって異なる。

☆気温は、一般には、地上 約 ___ m で測定された値で、___ という。

〈気温を測るときの条件〉

- ___ のよい ___。
- 地面から ___ m くらいの高さ。
- 近くに ___ がない ___ 場所。

1 天気と気温

 の日と の日の気温の様子を調べ、その ___ について考察する。

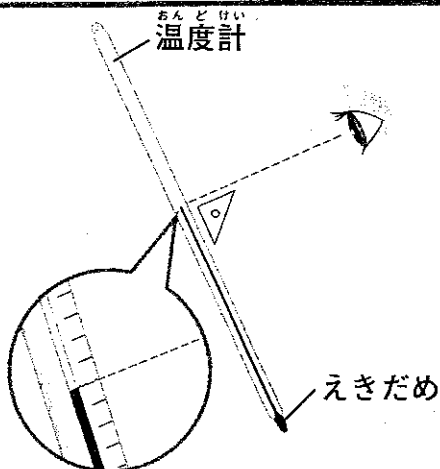
※ 晴れとくもりの 予  想 日の気温のちがい

教科書P210・211を読んで、マイノートを作り、
最後に温度計の読み取りをしましょう。

温度計の使い方を確認しよう。




(図1)




(図2)

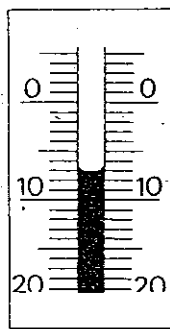
- (図1)のように温度計の□の方を手でそっとつかみ、自分の□の高さと液の先の高さをそろえる。
- (図2)のように、目もりは□□から読む。
- 液の先が、目もりと目もりにあるときは□①の方の目もりを読み、ちょうど真ん中のときは、□の方の目もりを読む。




□ °C



□ °C



□ °C



□ °C