


2 時ごとと時間 ①


名前

- ① 家を8時30分に出て、20分歩くと学校につきました。ついた時刻は何時何分ですか。



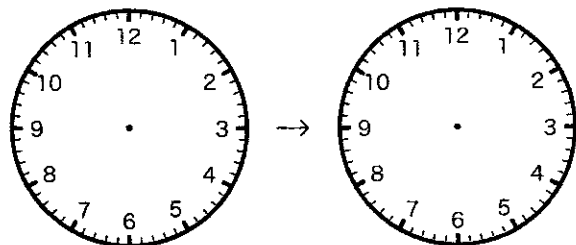
答え 8時50分

- ② 公園を11時40分に出て、30分歩くと学校につきました。ついた時刻は何時何分ですか。



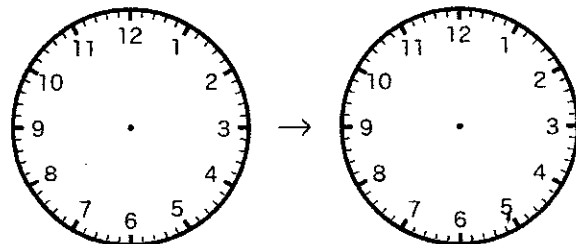
答え _____

- ③ 家を2時40分に出て、^{としょかん}図書館に3時につきました。家から図書館までかかった時間は何分ですか。図にかいて考えましょう。



答え 20分

- ④ 家を8時40分に出て、公園に9時10分につきました。家から公園までかかった時間は何分ですか。図にかいて考えましょう。

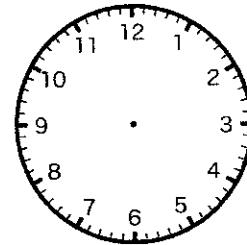


答え _____

2 時ごとと時間 ②

名前

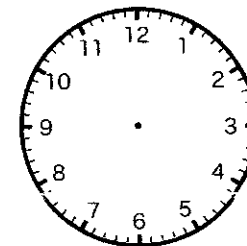
- ① 家を出て20分歩くと、10時50分に学校につきました。家を出た時刻は、何時何分ですか。図にかいて考えましょう。



答え 10時30分



- ② 家を出て20分歩くと、3時10分に広場につきました。家を出た時刻は、何時何分ですか。図にかいて考えましょう。



答え _____

- ③ ^{としょかん}図書館にいた時間は40分、東公園にいた時間は30分です。あわせて何時間何分ですか。

式 $40 + 30 = 70$

答え 1時間10分

- ④ ^{ゆうえんち}遊園地にいた時間は50分、西公園にいた時間は50分です。あわせて何時間何分ですか。

式 _____

答え _____